


PROBA DE CONCURS

Disciplina ECONOMIE
SEPTEMBRIE 2017



Întrebările 1 - 10 = 2 puncte

Întrebările 11 - 25 = 3 puncte

Întrebările 26 - 30 = 5 puncte

TOTAL = 90 puncte

10 puncte din oficiu

BAREM CORECTURĂ

Varianta 1



Mod de completare a grilei de răspunsuri

- Se hașurează un singur pătrat în dreptul fiecărei întrebări conform modelului:

n	a	b	c	d
---	---	---	---	---

- Dacă în dreptul numărului unei întrebări nu este hașurat nici un pătrat sau sunt hașurate mai multe, răspunsul este considerat greșit.
- Nu se admit ștersături.

1	a	b	c	d
2	a	b	c	d
3	a	b	c	d
4	a	b	c	d
5	a	b	c	d
6	a	b	c	d
7	a	b	c	d
8	a	b	c	d
9	a	b	c	d
10	a	b	c	d

11	a	b	c	d
12	a	b	c	d
13	a	b	c	d
14	a	b	c	d
15	a	b	c	d
16	a	b	c	d
17	a	b	c	d
18	a	b	c	d
19	a	b	c	d
20	a	b	c	d

21	a	b	c	d
22	a	b	c	d
23	a	b	c	d
24	a	b	c	d
25	a	b	c	d
26	a	b	c	d
27	a	b	c	d
28	a	b	c	d
29	a	b	c	d
30	a	b	c	d

**PROBA ISTORIE
BAREM**

VARIANTA 3

Subiectul I

(1 punct x 3 = 3 puncte)

1. b
2. a
3. b

Subiectul al II-lea

1 punct

a

Subiectul al III-lea

2,50 puncte

1. **0,25 puncte** pentru menționarea oricărui spațiu istoric la care se referă atât sursa A, cât și sursa B;
2. **0,75 puncte** pentru scrierea, pe foaia de examen, a oricăror două informații aflate în relație cauză-efect, selectate din sursa dată, precizând rolul fiecăreia dintre aceste informații (*cauză*, respectiv, *efect*);
3. **câte 0,25 puncte** pentru precizarea din sursă a oricăror două informații referitoare la politica externă a statului românesc. (0,25 puncte x 2=0,50 puncte)
4. **0,75 puncte** pentru argumentarea afirmației conform căreia acțiunile diplomatice la care participă românii de la sfârșitul Evului Mediu și începuturile modernității fac parte din relațiile internaționale;
0,25 puncte pentru susținerea argumentului printr-un fapt istoric relevant.

Subiectul al IV-lea


2,50 puncte

- **câte 0,25 puncte** pentru menționarea oricăror două cauze ale constituirii statului român modern în a doua jumătate a secolului al XIX-lea; (0,25 puncte x 2 = 0,50 puncte)
- **0,25 puncte** pentru menționarea oricărei măsuri de politică internă adoptată în statul român modern în intervalul 1862-1880;
- 0,50 puncte** pentru prezentarea măsurii de politică internă menționată, prin evidențierea relației istorice de cauzalitate și utilizarea unui exemplu/ a unei caracteristici;
- **0,25 puncte** pentru precizarea oricărei asemănări între două fapte istorice desfășurate de România în cadrul „Crizei Orientale” din a doua jumătate a secolului al XIX-lea;

- **0,20 puncte** pentru formularea oricărui punct de vedere referitor la participarea României în relațiile internaționale din primele două decenii ale secolului al XX-lea;
- 0,20 puncte** pentru coerența argumentării punctului de vedere formulat;
- 0,20 puncte** pentru relevanța argumentării punctului de vedere formulat;
- 0,20 puncte** pentru selectarea oricărui argument istoric care susține punctul de vedere formulat;
- 0,20 puncte** pentru utilizarea conectorilor care exprimă cauzalitatea (*pentru că, deoarece, etc*), respectiv, concluzia (*așadar, ca urmare, etc*)

Se acordă 1 punct din oficiu.

Președintele Comisiei de Admitere,
Conf.dr. Cristlan Pîrvulescu



BAREM LA PROBA FILOSOFIE

Varianta 2

1. Citiți cu atenție următoarele texte:

- a. *Omul nu este o ființă abstractă, situată în afara lumii. Omul este lumea omului, statul, societatea. Acest stat, această societate produc religia, o concepție răsturnată despre lume, pentru că însuși statul, societatea constituie o lume întoarsă pe dos [...] Lupta împotriva religiei este, prin urmare, lupta împotriva acelei lumi a cărei aromă spirituală este religia.* (K. Marx)
- b. *Religia este, ca să spunem așa, adâncul liniștit al mării, care rămâne liniștit oricât de înalte ar fi valurile.* (L. Wittgenstein)

Răspundeți concis următoarelor sarcini::

1. Reformulați cu propriile cuvinte pozițiile exprimate. **1 punct**
2. Sunteți de acord cu vreuna dintre ele? Argumentați-vă opțiunea. **1 punct**
3. În ce măsură cele două texte susțin idei opuse? De ce? **1 punct**
4. Formulați câte o consecință pe care acceptarea ca adevărată a fiecăreia dintre cele două afirmații ar avea-o. **1 punct**

2. Citiți cu atenție următorul text al lui Karl Popper:

Nu este greu de arătat că statul reprezintă un pericol permanent și, în acest sens, un rău, chiar dacă un rău necesar. Pentru că dacă statul trebuie să fie în măsură să-și îndeplinească sarcina, trebuie ca el să aibă mai multă putere decât fiecare cetățean în parte sau decât orice grup de cetățeni. Chiar dacă imaginăm instituții care să limiteze pe cât posibil pericolul acestei puteri, totuși nu putem elimina niciodată complet acest pericol. Dimpotrivă, mi se pare că vom fi tot mereu în situația de a plăti un preț pentru protecția juridică pe care o acordă statul, și nu sub formă de impozite, ci chiar sub forma înjosirii pe care trebuie să ne-o asumăm. ("Aroganța funcțiilor".) Dar toate acestea sunt o chestiune de măsură: totul depinde de posibilitatea de a nu plăti pentru protecția juridică un preț prea mare.

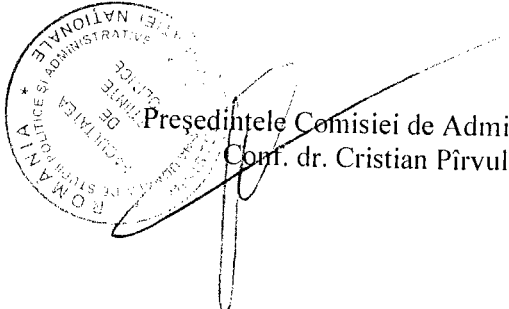
Sarcini

Rezolvați succint următoarele sarcini:

- a. Arătați de ce este statul: un rău; un rău necesar **1 punct**
- b. Care sunt diferențele între un stat democratic și unul despotice? **1 punct**
- c. Care este rolul tradițiilor democratice în funcționarea instituțiilor statului? **1 punct**
- d. Ce înțelege autorul prin „ambivalența” instituțiilor? **1 punct**
- e. Prezentați un argument pro și unul contra perspectivei etatiste. **1 punct**

Toate subiectele sunt obligatorii.
Un punct **1p** se acordă din oficiu.

Președintele Comisiei de Admitere,
Conf. dr. Cristian Pîrvulescu



Școala Națională de Studii Politice și Administrative
Facultatea de Științe Politice
Examenul de admitere în anul universitar 2017/2018
Sesiunea de admitere septembrie 2017

BAREM LA PROBA PSIHOLOGIE

Varianta 1

1. Definiți senzațiile ca proces senzorial. Explicați patru însușiri ale senzațiilor.

Definiția conceptului	0.5 puncte
Explicare însușire	0.25 puncte X 4
Punctaj	1.5 puncte

2. Clasificați și explicați trăirile afective primare.

Clasificare și explicare	0.5 puncte X 3
Punctaj	1.5 puncte

3. Definiți atenția. Descrieți relația dintre atenție și memorie. Oferiți două exemple în acest sens.

Definiția atenției	0.5 puncte
Descriere relație	1 punct
Construire exemplu	0.5 puncte X 2
Punctaj	2.5 puncte

4. Două dintre structurile personalității sunt temperamentul și caracterul. Pornind de la cunoștințele pe care le aveți despre ele răspundeți la următoarele sarcini:

- d. Definiți temperamentul și caracterul.
- e. Descrieți relația dintre temperament și caracter.
- f. Construiți un exemplu care să illustreze punctul de vedere exprimat.

Definiția conceptelor	0.5 puncte X 2
Descrierea relației	2 puncte
Elaborare exemplu	0.5 puncte
Punctaj	3.5 puncte

Toate subiectele sunt obligatorii.

Un punct se acordă din oficiu.

Președintele Comisiei de Admitere,
Conf. dr. **Cristian Pîrvulescu**

